




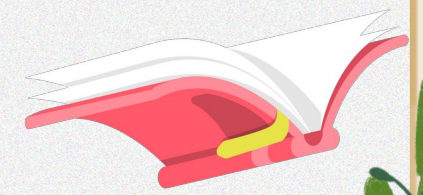
TOÁN



Làm quen với chữ số




LA MÃ



Khởi động




**Đồng hồ này chỉ
3 giờ 50 phút**





**Đồng hồ này chỉ
mấy giờ, mấy phút?**

**Các chữ số trên mặt
đồng hồ là các chữ số
La Mã**





**Hãy cùng nhau khám phá
xem chữ số La Mã là số
như thế nào nhé!**

Khám

phá



a. Một số chữ số La Mã thường dùng

I : một

V : năm

X : mười



b. Các chữ số La Mã từ 1 đến 20

I	II	III	IV	V	VI	VII	VIII	IX	X
1	2	3	4	5	6	7	8	9	10
XI	XII	XIII	XIV	XV	XVI	XVII	XVIII	XIX	XX
11	12	13	14	15	16	17	18	19	20

Luyện

tập



Bài 1 Mỗi đồng hồ chỉ mấy giờ?



A



B



C



D

Cách xem đồng hồ dùng chữ số La Mã giống như đồng hồ thông thường, chỉ khác ở cách ghi số trên mặt đồng hồ.

Bài 1 Mỗi đồng hồ chỉ mấy giờ?



A

Đồng hồ A chỉ 1 giờ



B

Đồng hồ B chỉ 5 giờ



C

Đồng hồ C chỉ 9 giờ





D

Đồng hồ D chỉ 10 giờ

Bài 2


Chọn cặp số và số La Mã thích hợp



**Bài
3**

**b) Viết các số từ 1 đến 15
bằng chữ số La Mã**

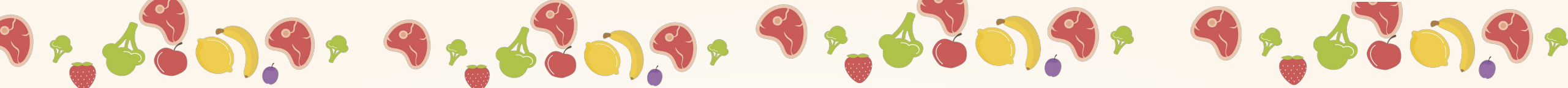
**I, II, III, IV, V, VI, VII, VIII, IX, X,
XI, XII, XIII, XIV, XV.**



Vân

dụng





Trò chơi

Cùng đi

siêu thị!





Luật chơi

Đây là trò chơi với 3 câu hỏi, mỗi câu sẽ có các phương án A, B, C, D. Nhiệm vụ của các em sẽ phải lựa chọn câu trả lời đúng nhất và ghi vào bảng con phương án A, B, C, D mà mình chọn, sau khi nghe hiệu lệnh của cô giáo thì giơ bảng lên. Nếu các em trả lời đúng các em sẽ lựa chọn được thực phẩm và đồ ăn sạch bỏ vào giỏ hàng của mình.

BẮT ĐẦU







KẾT THÚC

Số “7” viết như thế nào trong chữ số La Mã

A

VII



XIII



B

XII



XIII





**Đồng hồ chỉ mấy giờ,
mấy phút?**



A

5 giờ 1 phút



B

5 giờ 5 phút



C

1 giờ 5 phút



D

1 giờ 25 phút



Hãy đọc chữ số La Mã sau:
XIX



A

Mười một



B

Mười sáu



C

Mười chín



D

Mười tám



DẶN ĐÒ

Xem lại nội dung bài cũ

Chuẩn bị bài tiếp theo.



